

نام:

نام خانوادگی:

کلاس:

به نام ایزد یکتا

آزمون مداد کاغذی

ریاضی دوم دبستان

نوبت اول

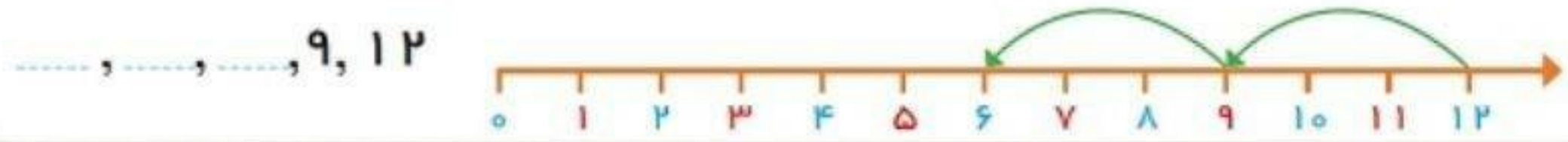
مدرسه:

آموزگار:

۲- با خط کش عددهای مثل هم را به هم وصل کنید.



۳- با کمک محور رو به عقب بشمارید و الگو را کامل کنید.



عددهای دو رقمی بنویسید که یکان آن ها ۲ و ۴ و دهگان آن ها ۵ و ۸ باشد.

--	--	--	--

جاهای خالی را با توجه به الگوی آن پر کنید:

۱۷ - ۱۸ - ۱۹ - - - -

- - - سی و شش - سی و هفت - سی و هشت - سی و نه

حاصل جمع و تفریق ها را به دست آوردید

$\begin{array}{r} ۴۶ \\ - ۱۶ \\ \hline \end{array}$	$\begin{array}{r} ۲۴ \\ + ۲۴ \\ \hline \end{array}$	$\begin{array}{r} ۶۱ \\ - ۴۶ \\ \hline \end{array}$	$\begin{array}{r} ۳۳ \\ + ۹۲ \\ \hline \end{array}$
---	---	---	---



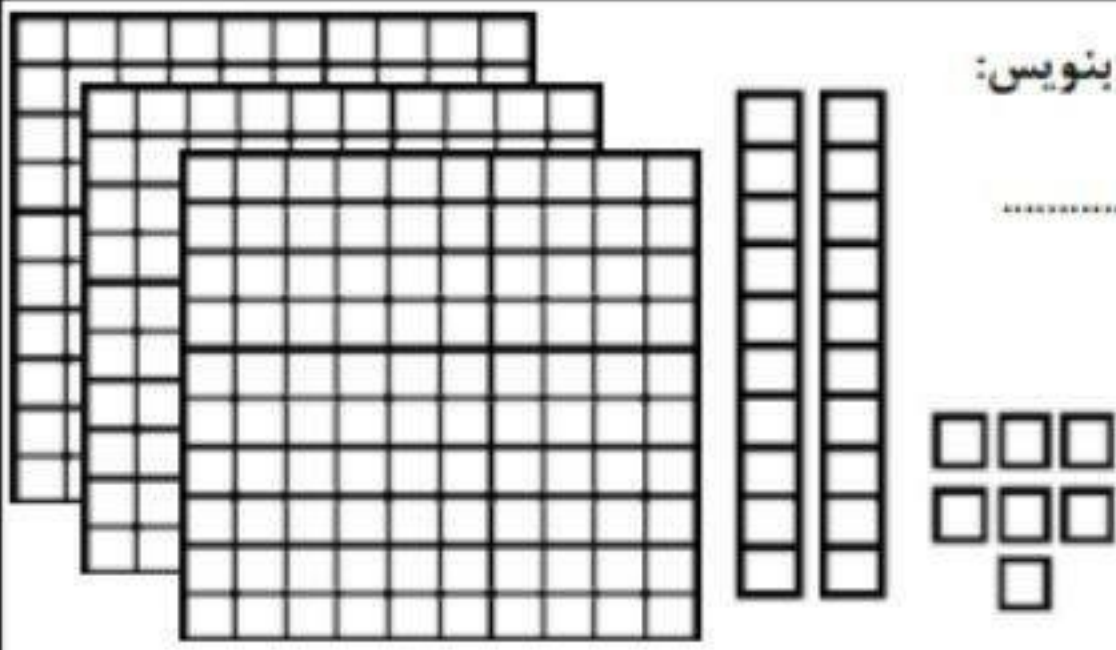
۸:۱۵



یک ربع مانده به چهار




عددی که شکل نشان می دهند در جدول قرار بده و به حروف بنویس:



به حروف:

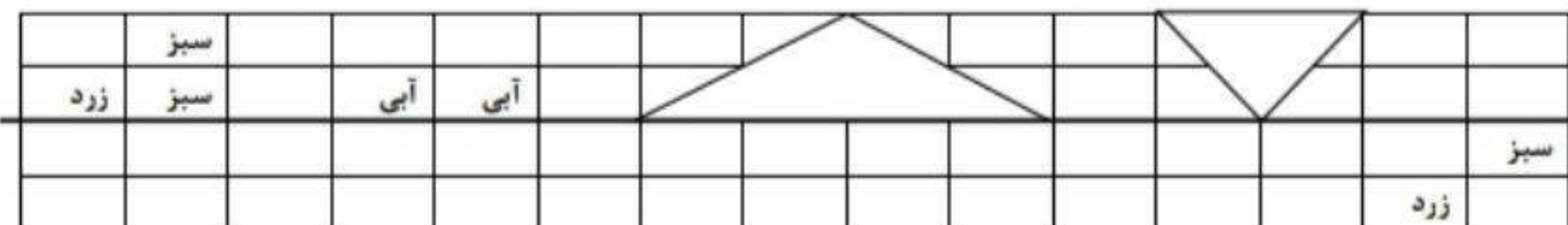
یکان	دهگان	صدگان



به حروف :

دهگان	یکان
-------	------

با توجه به خط تقارن نیمه دیگر شکل را بکش



۲- جواب جمع و تفریقها را به صورت تقریبی به دست آورید.

$$\begin{array}{r} 53 \rightarrow \dots \\ + 29 \rightarrow + \dots \\ \hline \end{array}$$

$$\begin{array}{r} 68 \rightarrow \dots \\ - 41 \rightarrow - \dots \\ \hline \end{array}$$

$$\begin{array}{r} 29 \rightarrow \dots \\ + 49 \rightarrow + \dots \\ \hline \end{array}$$

دویست و دوازده

۵۶۷

به عدد یا حروف بنویس:

۱۰۵

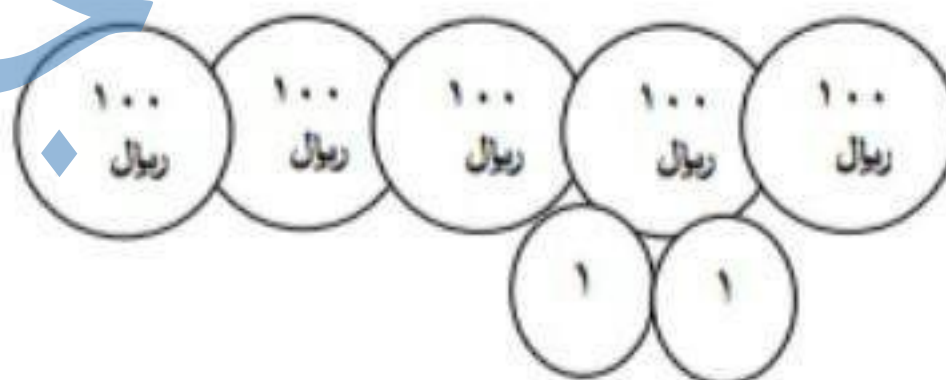
چهارصد بیست و دو

با سه کارتی که بر روی آن ها عددهای ۴ - ۶ - ۲ نوشته شده است تمام عددهای دو رقمی را که می توانی بنویس

۲ ۴ ۶

مقدار پول را به عدد مشخص کن و در جدول قرار بده

یکان	دهگان	صدگان



ارزشیابی	خ	خ	ق	ق	ن	ارزشیابی	خ	خ	ق	ق	ن
شناخت اعداد						رسم تقارن					
الگویابی						تقریب زدن					
عدد و رقم						حروف نویسی					
جمع و تفریق						ساخت عدد					
ساعت						شمارش پول					